

Nome : _____

INFORMAÇÃO : _____

Data : __/__/__



Cobre e completa.



5	5	5	5	5	5	5	5	5	5	5	5	5
5	5											





Pinta 5 pérolas do colar.



Responde.

 Quantas  há?

 Quantas  há?

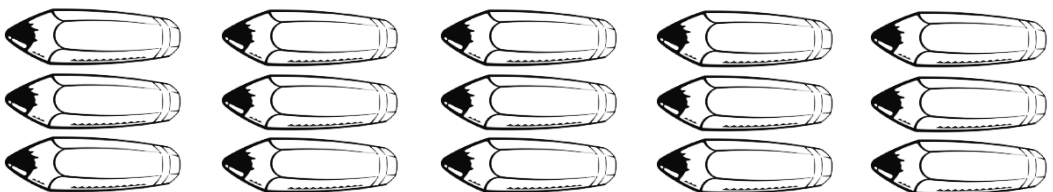
 Quantos  há?

 Quantas  há?

 Quantos  há?



Forma três grupos com 5 elementos cada.





Completa a sequência.

•	••	•••	••••	•••••	•									
1	2	3	4	4	1									



Com a ajuda da recta numérica completa as igualdades.

$$3 + 1 = \square$$



$$2 + 2 = \square$$



$$3 + \square = 5$$



$$2 + \square = 4$$



$$2 + 3 = \square$$



$$4 + \square = 5$$



A Ana comeu 2 tangerinas ao almoço e 3 ao lanche.
Quantas tangerinas comeu nas duas refeições?

$$\square + \square = \square$$



Resposta: Nas duas refeições comeu \square tangerinas.