
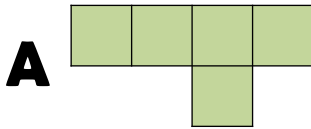


Nome : _____

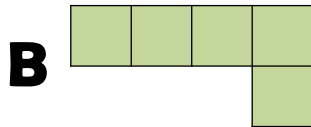
INFORMAÇÃO : _____

Data : __/__/__

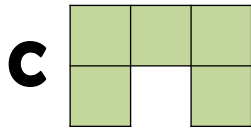
1 - Observa as seguintes figuras e indica em quantos quadrados como este  se pode decompor.



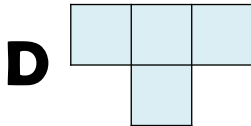
A figura **A** pode decompor-se em  quadrados.



A figura **B** pode decompor-se em  quadrados.

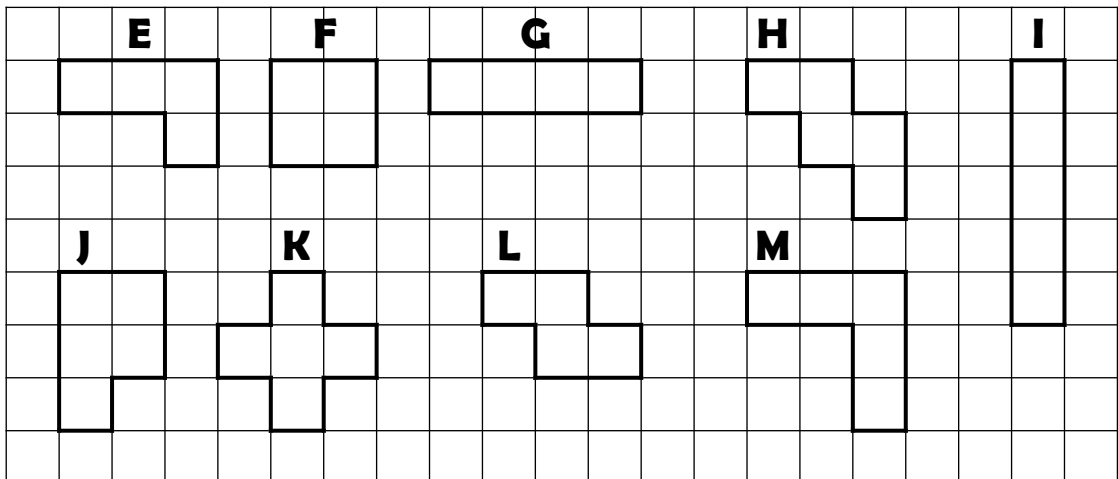


A figura **C** pode decompor-se em  quadrados.



A figura **D** pode decompor-se em  quadrados.

2 - Pinta de verde as figuras que podem decompor-se no mesmo número de quadrados que a figura **D**.



As figuras **D**, **E**, **F**, **G** e **L** podem decompor-se no mesmo número de quadrados. Diz-se que têm a mesma **área**.

A **área** de uma figura é a **superfície que ela ocupa**.