



Nome : _____



INFORMAÇÃO : _____

Data : ___/___/___

1 – Pinta o par de figuras simétricas:



2 – Desenha figuras simétricas.



3 – Escreve os números.

setecentos	
setecentos e dez	
setecentos e trinta	

setecentos e setenta	
setecentos e oitenta	
setecentos e noventa	

4 – Decompõe.

$700 = \underline{\quad} + \underline{\quad}$	$720 = \underline{\quad} + \underline{\quad}$	$715 = \underline{\quad} + \underline{\quad} + \underline{\quad}$
$700 = \underline{\quad} + \underline{\quad}$	$760 = \underline{\quad} + \underline{\quad}$	$738 = \underline{\quad} + \underline{\quad} + \underline{\quad}$
$700 = \underline{\quad} + \underline{\quad}$	$790 = \underline{\quad} + \underline{\quad}$	$764 = \underline{\quad} + \underline{\quad} + \underline{\quad}$

5 – Rodeia o algarismo das centenas e sublinha o das unidades.

5 9 4

6 4 7

6 9 2

7 2 8

7 9 9

6 – Escreve os números por ordem...

674	474	decrecente _____
746	764	crescente _____

7 – Com os números 321 e 457 faz...

uma subtração (-)

C	D	U
—	—	—
—	—	—

uma adição (+)

C	D	U
—	—	—
—	—	—

8 – Efetua as operações.

92 x 4 =

81 x 5 =

C	D	U
	—	—
	—	—

x

C	D	U
	—	—
	—	—

x

9 – Resolve as situações problemáticas.

9.1 A Beatriz tem 186 berlindes e o primo tem mais 56. **Quantos berlindes tem o primo da Beatriz?**

R.: _____

9.2 O limoeiro tinha 784 limões. O vento deitou ao chão 140. **Quantos ficaram na árvore?**

R.: _____