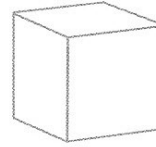
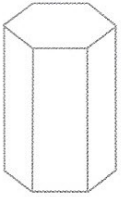


Nome : _____

INFORMAÇÃO : _____

Data : __/__/__

1 – Observa os sólidos geométricos. Pinta os não poliedros.

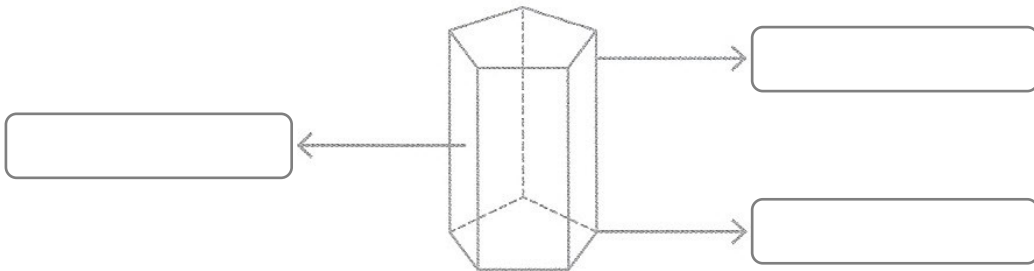


Prismas

Pirâmides

1.1 – Liga os poliedros ao grupo a que pertencem.

2 – Legenda a imagem com: aresta, vértice e face.



3 – Liga cada sólido à planificação que lhe corresponde.

